



## Le dessin technique

→ Pour les exercices 3 et 4, utilise ces photographies de quatre assemblages différents, tous faits avec 6 cubes.



Devant

**Assemblage 3**




Devant

**Assemblage 4**



Devant


**Assemblage 5**



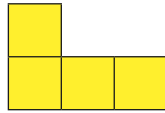
Devant

**Assemblage 6**

**3** Pour chaque vue, écris le numéro de l'assemblage auquel elle peut correspondre. Il peut y avoir plusieurs solutions.



Vue de face

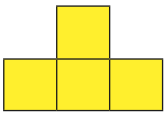


Vue de droite

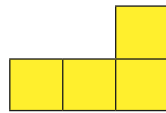


Vue de dessus

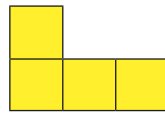
**4** Quel est l'assemblage qui correspond à ces 4 vues ? .....




Vue de face



Vue de gauche

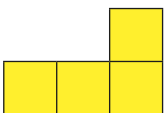


Vue de droite

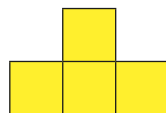


Vue de dessus

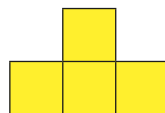
**5** Construis un assemblage de 6 cubes qui correspond à ces 4 vues.




Vue de face



Vue de gauche




Vue de droite

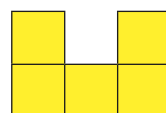


Vue de dessus

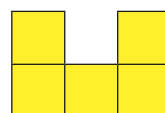
**6** Construis un autre assemblage de 6 cubes qui correspond à ces 4 vues.




Vue de face



Vue de gauche



Vue de droite



Vue de dessus