
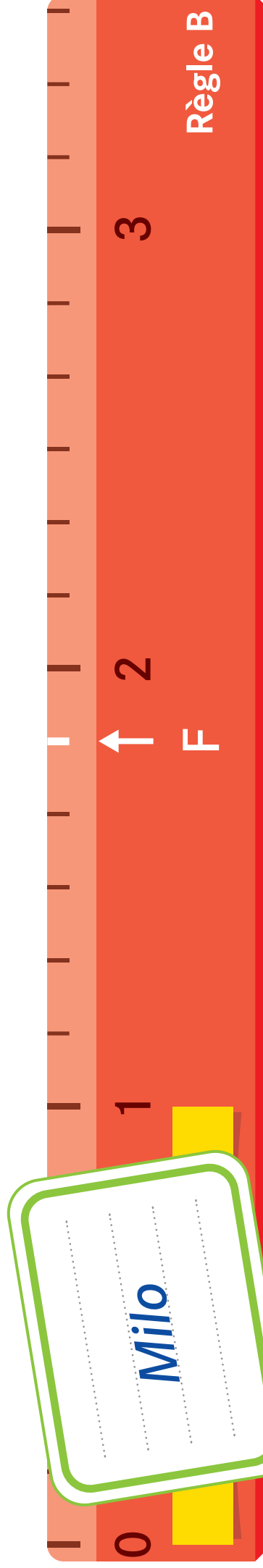
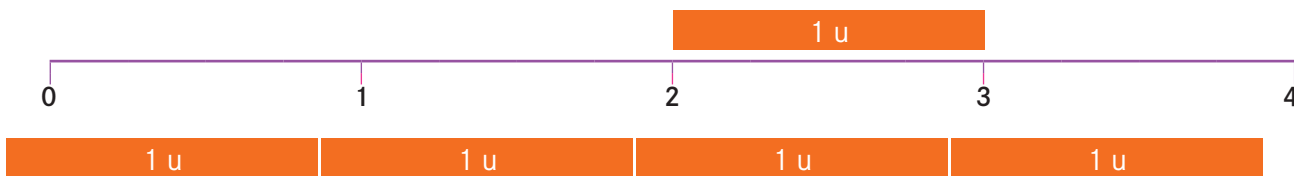


# Les règles graduées (2)

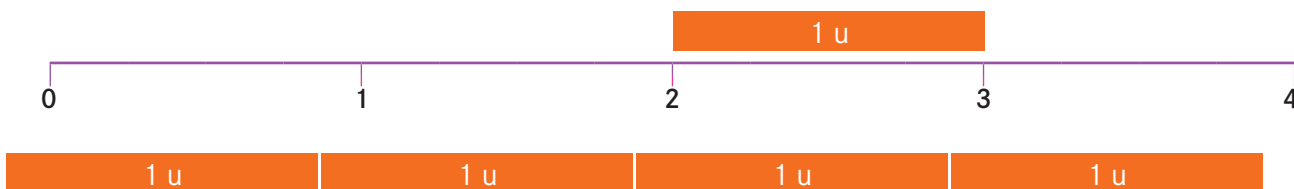


## Ligne graduée

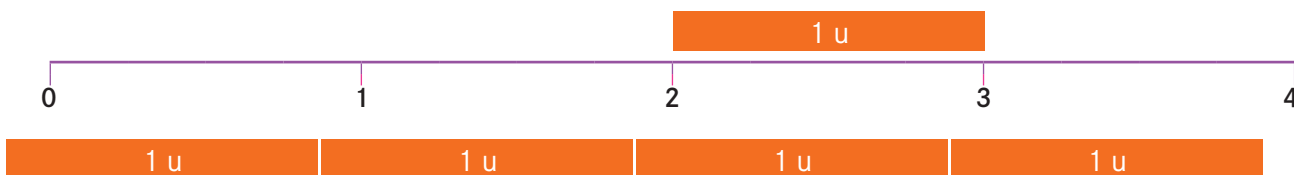
2 Sur ta fiche, place ces nombres et leurs repères :  $\frac{1}{2}$   $\frac{3}{2}$   $\frac{5}{2}$   $\frac{3}{4}$   $\frac{7}{4}$   $\frac{2}{3}$   $\frac{7}{3}$



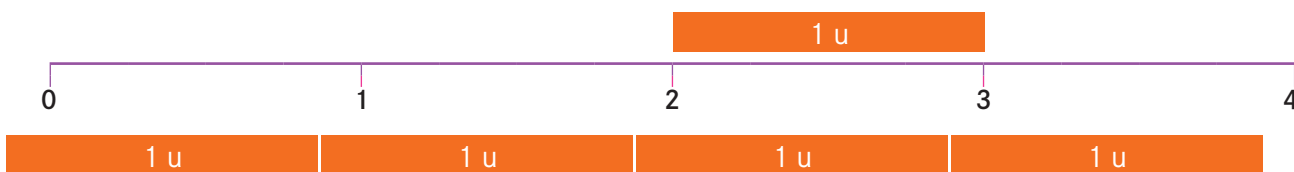
2 Sur ta fiche, place ces nombres et leurs repères :  $\frac{1}{2}$   $\frac{3}{2}$   $\frac{5}{2}$   $\frac{3}{4}$   $\frac{7}{4}$   $\frac{2}{3}$   $\frac{7}{3}$



2 Sur ta fiche, place ces nombres et leurs repères :  $\frac{1}{2}$   $\frac{3}{2}$   $\frac{5}{2}$   $\frac{3}{4}$   $\frac{7}{4}$   $\frac{2}{3}$   $\frac{7}{3}$



2 Sur ta fiche, place ces nombres et leurs repères :  $\frac{1}{2}$   $\frac{3}{2}$   $\frac{5}{2}$   $\frac{3}{4}$   $\frac{7}{4}$   $\frac{2}{3}$   $\frac{7}{3}$



2 Sur ta fiche, place ces nombres et leurs repères :  $\frac{1}{2}$   $\frac{3}{2}$   $\frac{5}{2}$   $\frac{3}{4}$   $\frac{7}{4}$   $\frac{2}{3}$   $\frac{7}{3}$

