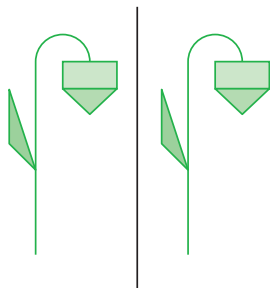


Symétrie axiale

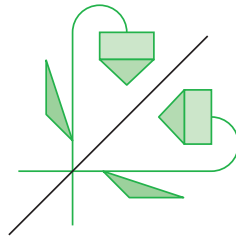
Figures symétriques par rapport à une droite : reconnaissance

1 Quels sont les dessins où les deux figures sont symétriques par rapport à la droite noire ?

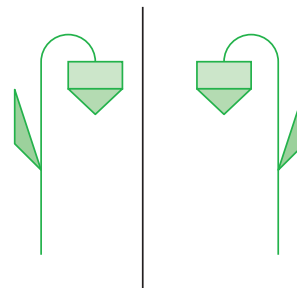
Réponse :



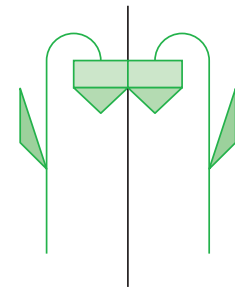
Dessin 1



Dessin 2



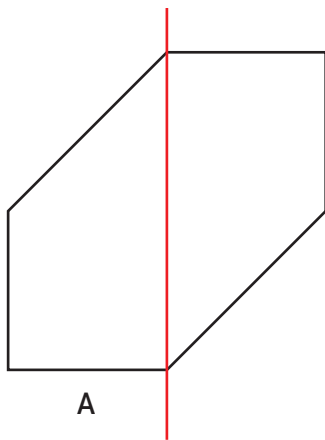
Dessin 3



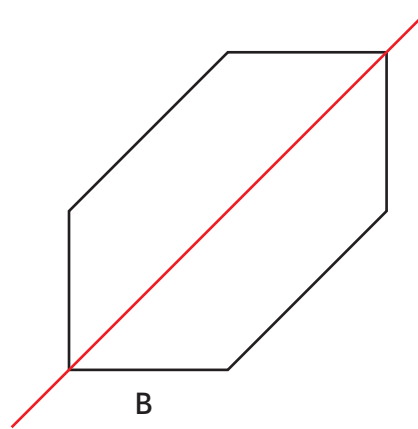
Dessin 4

Axe de symétrie d'une figure : reconnaissance

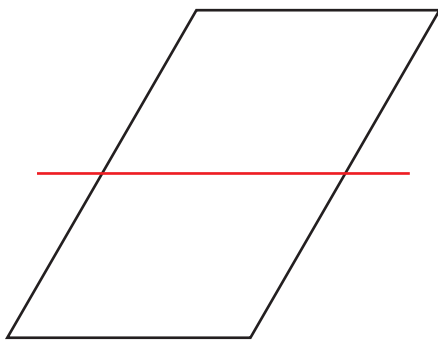
2 Quelles figures ont pour axe de symétrie la droite rouge ?



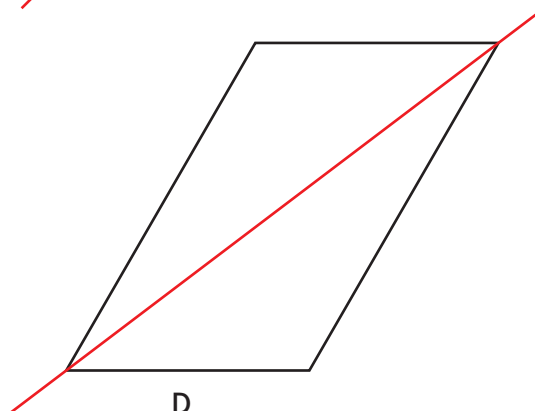
A



B



C



D

Corrigés

- 1** Figures symétriques : dessins 2 et 4
Dessin 1 : il n'y a pas de figure retournée
Dessin 3 : les figures ne sont pas à la même distance de l'axe
- 2** Droite axe de symétrie de la figure : B
Sur les trois autres figures, la droite partage la figure en deux figures identiques mais qui ne se superposent pas quand on imagine plier autour de la droite.