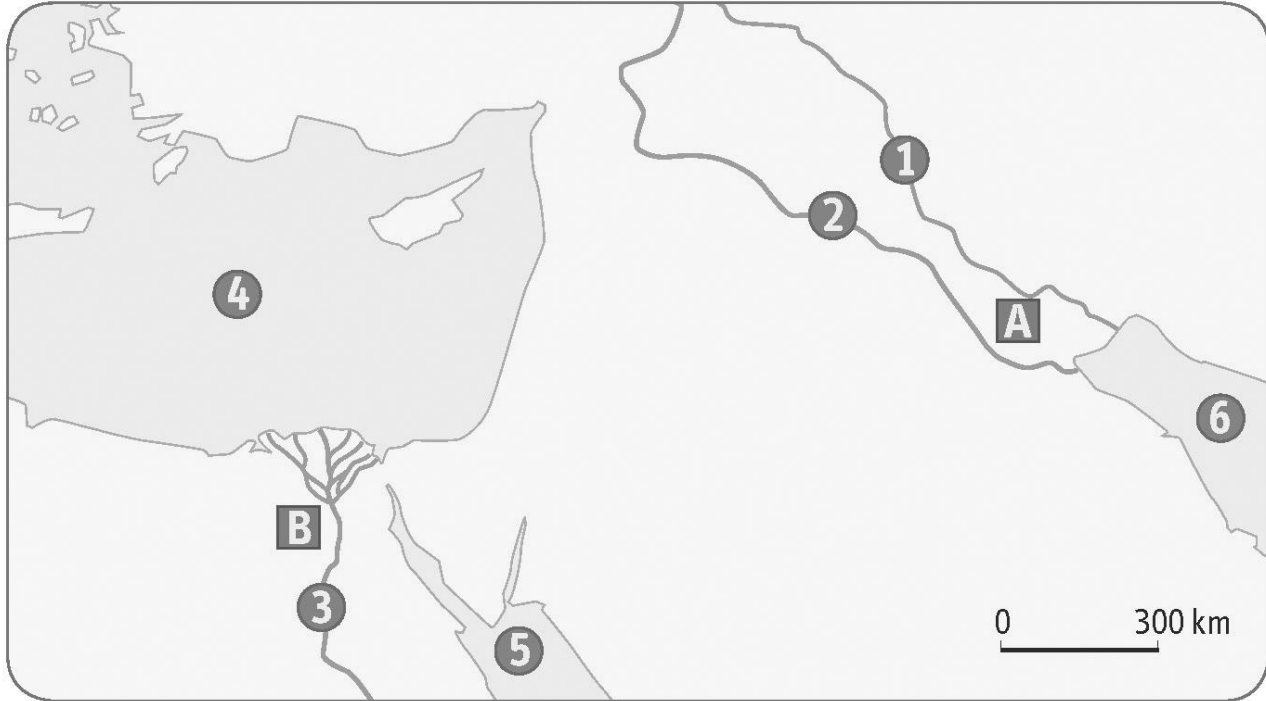




1. Je me repère dans le temps et l'espace



1. À quels pays correspondent les lettres A et B ?

.....

.....

.....

.....

2. À quels fleuves et quelles mers correspondent les différents numéros ?

.....

.....

.....

.....

.....

.....

.....

.....

.....

.....

3. Au III^e millénaire avant J.-C., lequel des deux pays A ou B est :

– divisé en cités-États ;

.....

.....

– unifié en un royaume ?

.....

.....

4. Quelle écriture est utilisée dans le pays A ? Dans le pays B ?

.....


.....

.....


2. Je sais identifier des écritures de l'Orient ancien



1



2



3



4

1. Durant quel millénaire sont apparues les premières écritures ?

.....

.....

2. Recopiez et complétez le tableau suivant.

	Nom de l'écriture	Lieu d'origine	Support
Document 1			
Document 2			
Document 3			
Document 4			

3. Je connais le vocabulaire de l'Orient ancien

- Retrouvez les mots correspondant aux définitions suivantes.

Égypte

a. Tombeau des pharaons

.....

.....

b. Statue de lion à tête d'homme

.....

.....

c. Titre donné au roi d'Égypte

.....

.....

Mésopotamie

d. Petit État indépendant de Mésopotamie organisé autour d'une cité

.....

.....

e. Tour à étages en Mésopotamie

.....

.....

Egypte et Mésopotamie

f. Croyance en plusieurs dieux

.....

.....

g. Celui qui a pour métier d'écrire

.....

.....

h. Bâtiment construit pour un dieu ou une personne divinisée

.....

.....